


いくつと いくつに なるでしょう。

○にいろをぬってみよう。

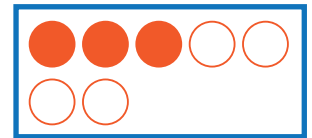
①

6 は 3 と



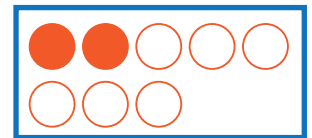
②

7 は 3 と



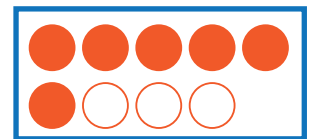
③

8 は 2 と



④

9 は 6 と



⑤

10 は 3 と

