


いくつと いくつに なるでしょう。

○にいろをぬってみよう。

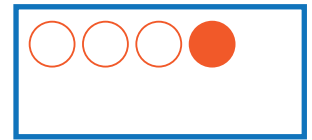
①

5 は 3 と



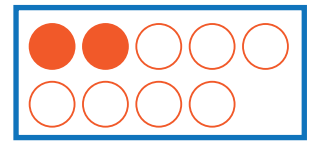
②

4 は と 1




③

9 は 2 と



④

6 は と 2



⑤

10 は 4 と

