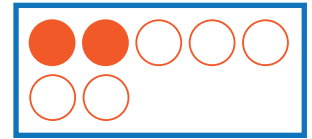


いくつと いくつに なるでしょう。

○にいろをぬってみよう。


①

7 は 2 と




②

8 は と 3



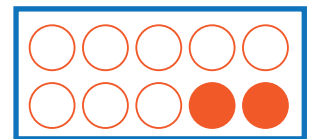
③

6 は 4 と



④

10 は と 2



⑤

9 は 7 と

