


10は いくつと いくつでしょう。

○にいろをぬってみよう。

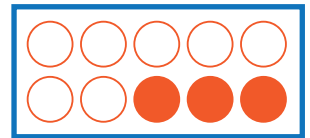
①

10 は 6 と




②

10 は と 3



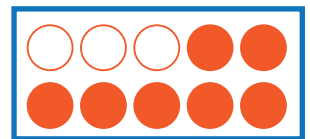
③

10 は 8 と



④

10 は と 7



⑤

10 は 9 と

