


① ねこは あわせて いくつ?




1びき




2びき

しき + =
たす は

② りんごは あわせて いくつ?




2こ




2こ

しき + =
たす は

③ あひるは あわせて いくつ?



3びき



1びき

しき + =
たす は

