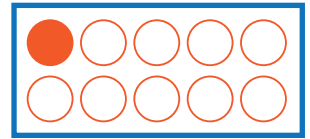


10は いくつと いくつでしょう。

○にいろをぬってみよう。


①

10 は 1 と



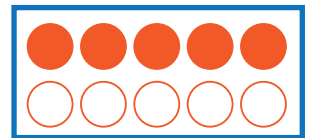
②

10 は と 7



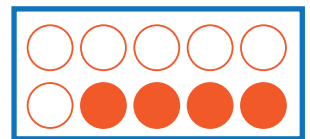
③

10 は 5 と



④

10 は と 4



⑤

10 は 2 と

