



① ねこが 3びき います。1びき かえりました。のこりは いくつ？




しき - =
ひく は

② りんごが 5こ あります。2こ たべました。のこりは いくつ？



しき - =
ひく は

③ あひるが 6びき います。3びき にげました。のこりは いくつ？



しき - =
ひく は

