
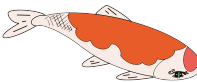



もんだいを よんで こたえましょう。

- ①  えんぴつが 3 ほんあります。あとから 4 ほん  
ふえました。えんぴつは あわせて なんほんですか。

しき  +  =  こたえ  ほん  
たす は

- ② すいそうに  さかなが 5 ひきいます。  
あとから、4 ひきふえました。 ぜんぶで なんひきですか。

しき  +  =  こたえ  ひき  
たす は

- ③  ボールが 4 こあります。あとから 6 こ ふえ  
ました。ボールは あわせて なんこですか。

しき  +  =  こたえ  こ  
たす は

