




もんだいを よんで こたえましょう。

- ①  ケーキが 6 こあります。あとから 2 こもらいました。ケーキは あわせて なんこですか。

しき  +  =  こたえ  こ  
たす は

- ②  コップが 3 こあります。あとから、5 こふえました。ぜんぶで なんこですか。

しき  +  =  こたえ  こ  
たす は

- ③  かみひこうきを 2 こ おりました。あとで 8 こ おりました。あわせて なんこ おりましたか。

しき  +  =  こたえ  こ  
たす は

