





① あひるは にわとりより なんわ おおいですか。



しき

$$\square - \square = \square$$


② みかんは りんごより なんこ おおいですか。



しき

$$\square - \square = \square$$

③ かずの ちがいは いくつですか。



しき

$$\square - \square = \square$$

