


① かずの ちがいは いくつですか。




しき

こたえ

こ

② いかは たこより なんびき おおいですか。




しき

こたえ

ひき

③ いちごが 9こ、 みかんが 7こ、 りんごが 2こ あります。

いちごは りんごより なんこ おおいですか。



しき

こたえ

こ

