



① はちが 4ひき います。3ひき とんでいきました。のこりは なんびき？




しき  - ひく  = は

② バスが ちゅうしゃじょうに 6だい とまっています。4だい しゅっぱつ  
しました。のこりは なんだいですか？



しき  - ひく  = は

③ りすが 5ひき います。3ひき かえりました。のこりは なんびき？



しき  - ひく  = は

