





次の問題をくふうして計算しましょう。

$$\textcircled{1} \quad 18 + 51 + 82 = 100 + 51 = 151$$


$$\textcircled{2} \quad 38 + 71 + 29 = 38 + 100 = 138$$


$$\textcircled{3} \quad 17 + 83 + 92 = 100 + 92 = 192$$


$$\textcircled{4} \quad 42 + 53 + 58 = 100 + 53 = 153$$


$$\textcircled{5} \quad 69 + 27 + 73 = 69 + 100 = 169$$
