





次の問題をくふうして計算しましょう。

$$\textcircled{1} \quad 634 + 264 + 66 = 700 + 264 = 964$$


$$\textcircled{2} \quad 73 + 257 + 27 = 100 + 257 = 357$$


$$\textcircled{3} \quad 152 + 436 + 48 = 200 + 436 = 636$$


$$\textcircled{4} \quad 26 + 153 + 374 = 400 + 153 = 553$$


$$\textcircled{5} \quad 418 + 252 + 82 = 500 + 252 = 752$$
