


① ねこは あわせて いくつ?




1びき




2びき

しき 1 + 2 = 3
たす は

② りんごは あわせて いくつ?




2こ




2こ

しき 2 + 2 = 4
たす は

③ あひるは あわせて いくつ?



3びき



1びき

しき 3 + 1 = 4
たす は

