

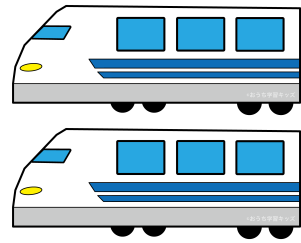
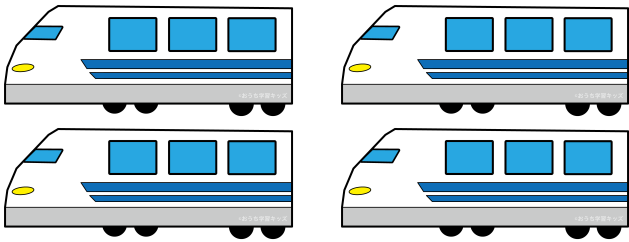


① みかんは あわせて いくつ？





しき 4 + 3 = 7  
たす は

② しんかんせんは あわせて いくつ？



しき 4 + 2 = 6  
たす は

③ トマトは あわせて いくつ？



しき 2 + 6 = 8  
たす は

