




① サッカーボールは あわせて いくつ？





しき 5 + 3 = 8  
たす は

② ケーキは あわせて いくつ？



しき 3 + 4 = 7  
たす は

③ レモンは あわせて いくつ？



しき 5 + 5 = 10  
たす は

