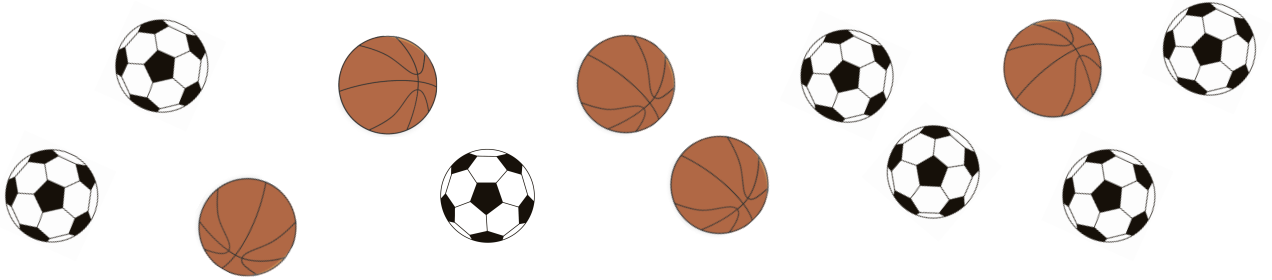


① バasketボールと サッカーボールの かずの ちがいは いくつですか。



しき

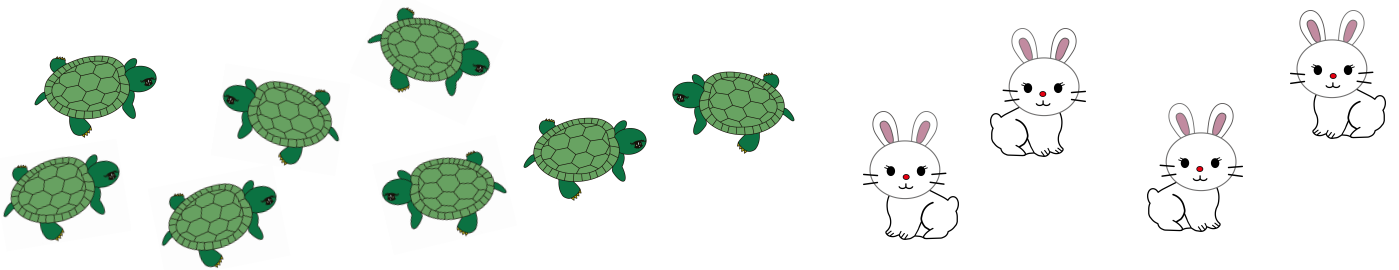
$$7 - 5 = 2$$

こたえ

2

こ

② かめは うさぎより なんびき おおいですか。





しき


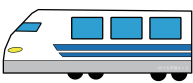
$$8 - 4 = 4$$

こたえ

4

ひき

③  が9だい、 が5だい あります。

 と  の かずの ちがいは いくつですか。

しき

$$9 - 5 = 4$$

こたえ

4

だい

