


① かずの ちがいは いくつですか。



しき


$$7 - 5 = 4$$

こたえ

4

こ

② いかは たこより なんびき おおいですか。



しき

$$8 - 4 = 4$$


こたえ

4

ひき

③ いちごが 9こ、 みかんが 7こ、 りんごが 2こ あります。

いちごは りんごより なんこ おおいですか。



しき

$$9 - 2 = 7$$

こたえ

7

こ

