

いくつと いくつに なるでしょう。

○にいろをぬってみよう。

①


2

は

1

と

1



②


3

は

1

と

2



③


4

は

2

と

2



④


5

は

3

と

2



⑤

6

は

2

と

4

