


いくつと いくつに なるでしょう。

○にいろをぬってみよう。


①

6 は 3 と 3




②

7 は 3 と 4




③

8 は 2 と 6



④

9 は 6 と 3



⑤

10 は 3 と 7

