


いくつと いくつに なるでしょう。

○にいろをぬってみよう。


①

5 は 3 と 2




②

4 は 3 と 1




③

9 は 2 と 7



④

6 は 4 と 2



⑤

10 は 4 と 6

