


いくつと いくつに なるでしょう。

○にいろをぬってみよう。


①

7 は 2 と 5




②

8 は 5 と 3




③

6 は 4 と 2



④

10 は 8 と 2



⑤

9 は 7 と 2

