


10は いくつと いくつでしょう。

○にいろをぬってみよう。


①

10 は 1 と 9




②

10 は 3 と 7




③

10 は 5 と 5



④

10 は 6 と 4



⑤

10 は 2 と 8

