


10は いくつと いくつでしょう。

○にいろをぬってみよう。


①

10 は 6 と 4




②

10 は 7 と 3




③

10 は 8 と 2



④

10 は 3 と 7



⑤

10 は 9 と 1

