


① プリンが 6こ あります。5こ たべました。のこりは なんこ ですか。



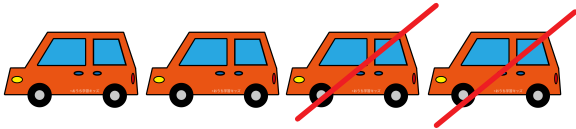
しき

$$6 - 5 = 1$$

こたえ

1こ

② くるまが 4だい とまっています。2だい しゅっぱつ しました。
のこりは なんだい ですか。




しき

$$4 - 2 = 2$$

こたえ

2だい

③ かめを 7ひき かっています。2ひき ともだちに あげました。
のこりは なんびき ですか。



しき

$$7 - 2 = 5$$

こたえ

5ひき

