


① こうえんに いぬが 8ひき います。5ひき かえりました。  
のこりは なんびき ですか。



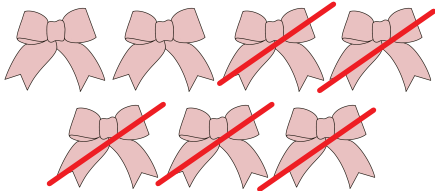
しき

$$8 - 5 = 3$$

こたえ

3 びき

② リボンが 7こ あります。5こ あげました。のこりは なんこ ですか。




しき

$$7 - 5 = 2$$

こたえ

2 こ

③ だいこんが 9ほん あります。ともだちに 6ほん あげました。  
のこりは なんぼん ですか。



しき

$$9 - 6 = 3$$

こたえ

3 ぼん

