
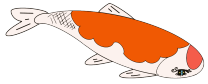



もんだいを よんで こたえましょう。

①  えんぴつが 3 ほんあります。あとから 4 ほん
ふえました。えんぴつは あわせて なんほんですか。

しき 3 + 4 = 7 こたえ 7 ほん
たす は

② すいそうに  さかなが 5 ひきいます。
あとから、4 ひきふえました。 ぜんぶで なんひきですか。

しき 5 + 4 = 9 こたえ 9 ひき
たす は

③  ボールが 4 こあります。あとから 6 こ ふえ
ました。ボールは あわせて なんこですか。

しき 4 + 6 = 10 こたえ 10 こ
たす は

