




もんだいを よんで こたえましょう。

- ①  プチトマトが 5 こあります。あとから5 こ
ふえました。プチトマトは あわせて なんこですか。

しき $5 + 5 = 10$ こたえ 10 こ

- ②  かたつむりが 8 ひきいます。あとから、
1 ひきふえました。 ぜんぶで なんびきですか。

しき $8 + 1 = 9$ こたえ 9 ひき

- ③  プールに おとこのこが 4 にん、おんなのこが
4 にん います。 みんなで なんにん いますか。

しき $4 + 4 = 8$ こたえ 8 にん

