




もんだいを よんで こたえましょう。

- ①  ケーキが 6 こあります。あとから 2 こもらいました。ケーキは あわせて なんこですか。

しき $6 + 2 = 8$ こたえ 8 こ

- ②  コップが 3 こあります。あとから、5 こふえました。ぜんぶでなんこですか。

しき $3 + 5 = 8$ こたえ 8 こ

- ③  かみひこうきを 2 こ おりました。あとで 8 こ おりました。あわせて なんこ おりましたか。

しき $2 + 8 = 10$ こたえ 10 こ

