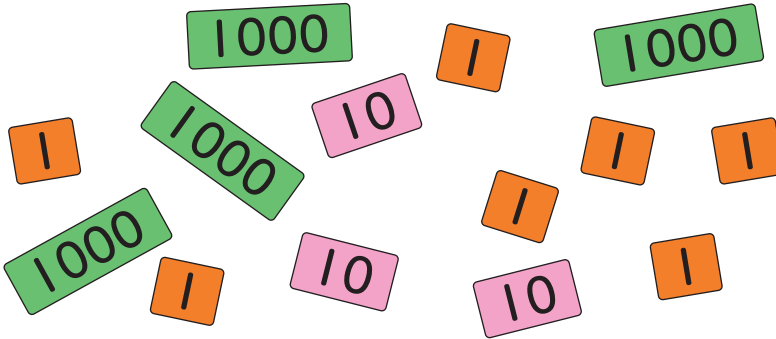


次の数を 数字で 書きましょう。


(1)



1000	100	10	1
1000のくらい	100のくらい	10のくらい	1のくらい

\_\_\_\_\_


(2)



1000	100	10	1
1000のくらい	100のくらい	10のくらい	1のくらい

\_\_\_\_\_

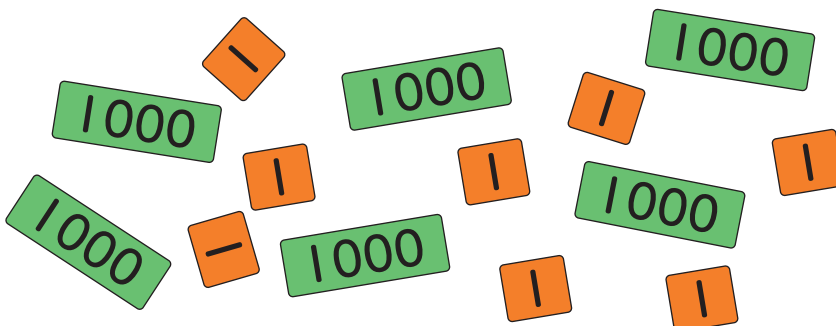
(3)



1000	100	10	1
1000のくらい	100のくらい	10のくらい	1のくらい

\_\_\_\_\_

(4)



1000	100	10	1
1000のくらい	100のくらい	10のくらい	1のくらい

\_\_\_\_\_

