

# 合同な図形 1

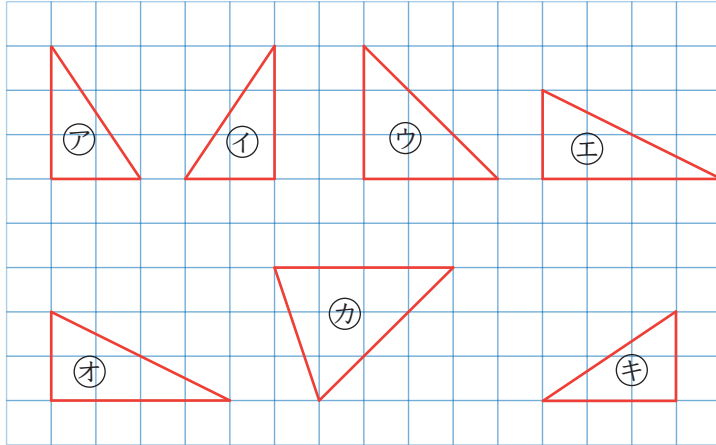
小学5年生

ぴったりと重ね合わせることができる

2つの図形を合同と言います。

合同な図形は、形も大きさも同じ（回転・裏返しも含む）

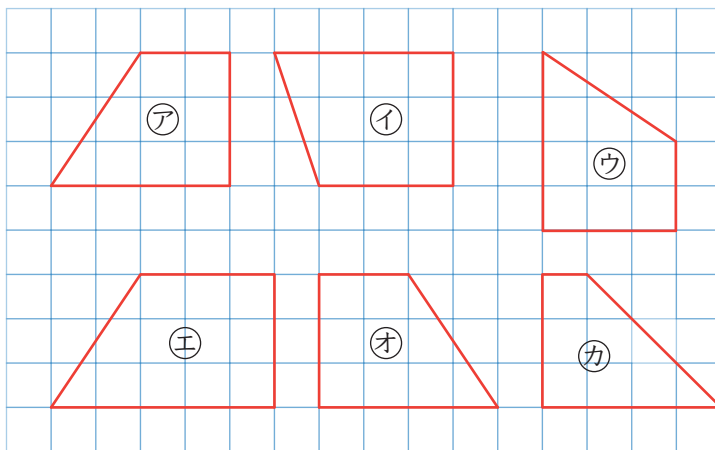
① ㊦と合同な三角形を、㊩～㊫の中から2つ選びましょう。



2つの辺の長さと、  
それに挟まれた角の大きさが同じ

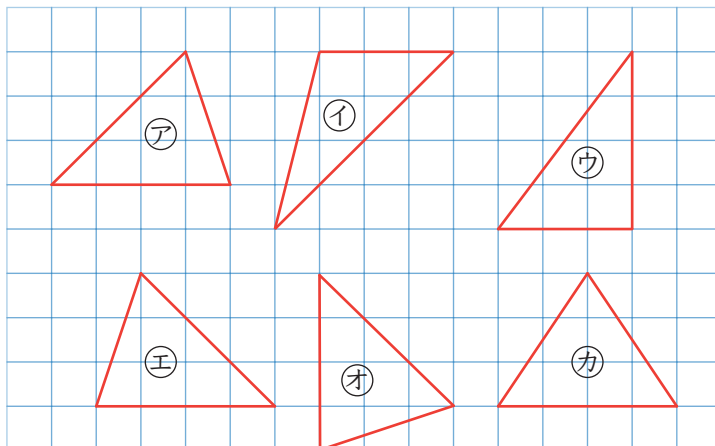
答 ㊩ ㊫

② ㊦と合同な四角形を、㊩～㊫の中から2つ選びましょう。



答 ㊨ ㊫

③ ㊦と合同な三角形を、㊩～㊫の中から2つ選びましょう。



1つの辺の長さと、  
その両端の2つの角の大きさが同じ

答 ㊨ ㊫

