


次の図形について 後の問いに答えましょう。


ア



イ



ウ




エ



オ



カ



① 点対称な図形はどれですか。ア～カからすべて選びましょう。

{ }

② ①で答えた図形に 対称の中心 O を入れましょう。

