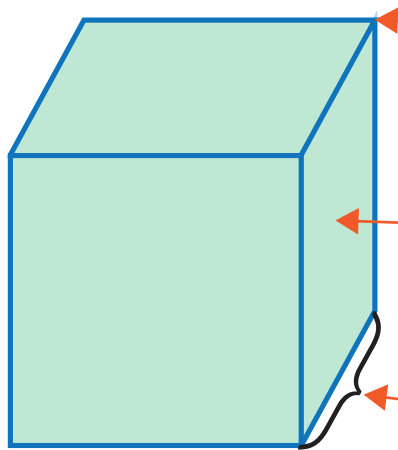


1 □に あてはまる ことばを 書きましょう。



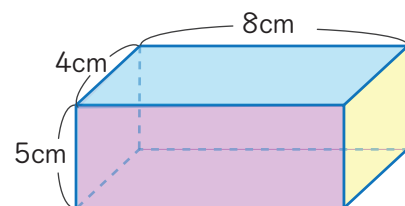
頂点(ちょうてん)

面(めん)

辺(へん)

2 右の はこの形を見て 答えましょう。

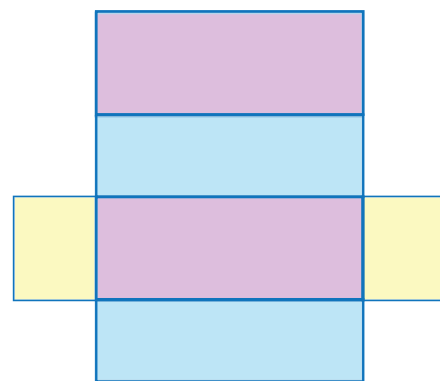
① 面は どんな形を していますか。



長方形(ちょうほうけい)

② 面が いくつ ありますか。

6つ



③ 同じ 大きさの面が いくつずつ ありますか。

2つずつ

