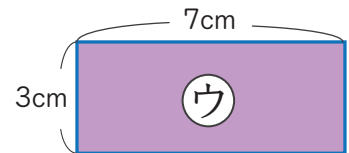
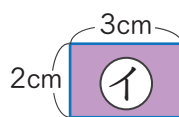
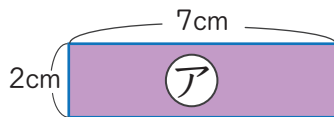
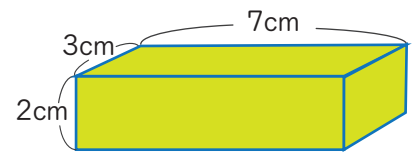
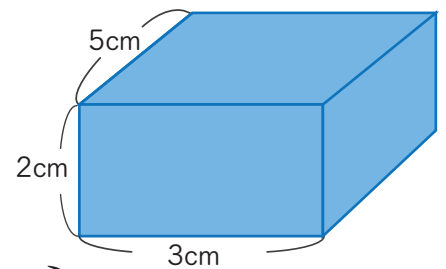


1 右の はこを つくるには それぞれ
①から ③の 形を 何まい つかえば
よいですか。



① _____ ② _____ ③ _____

2 右のような はこの 形を 辺にそって
切りひらいた 図を ほうがん紙に
かいて います。



下の 図の つづきを かいて しあげましょう。

