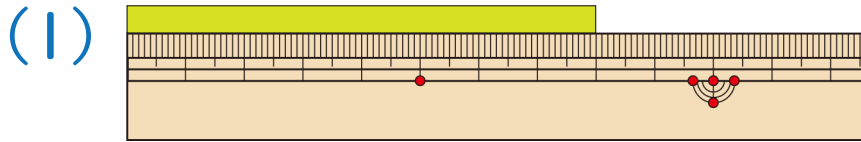
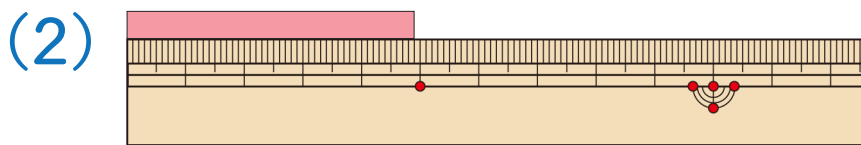


1 つぎの テープの 長さは どれだけでしょ。う。

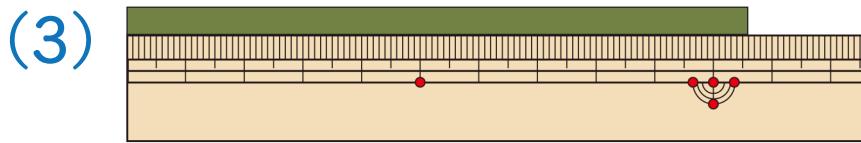


8cm



5cm より少し短い

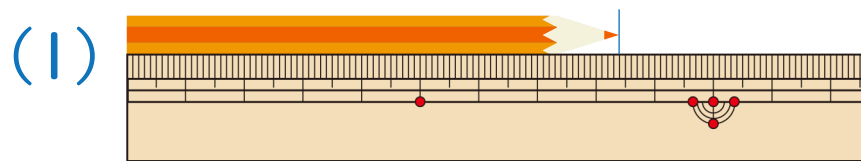
4cm9mm



10cm より少し長い

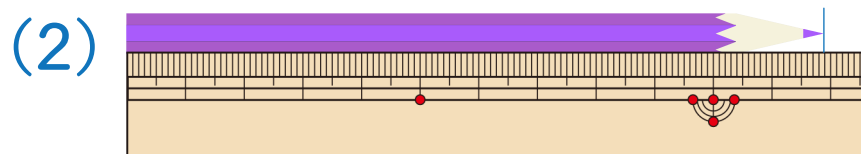
10cm6mm

2 つぎの えんぴつの 長さは どれだけでしょ。う。



8cm より長い

8cm4mm



12cm より少し短い

11cm9mm

