





くだものの 数を しらべます。



① くだものの 数を 下の ひょうに 書きましょう。

名前	メロン	バナナ	みかん	りんご
数	2	5	7	4

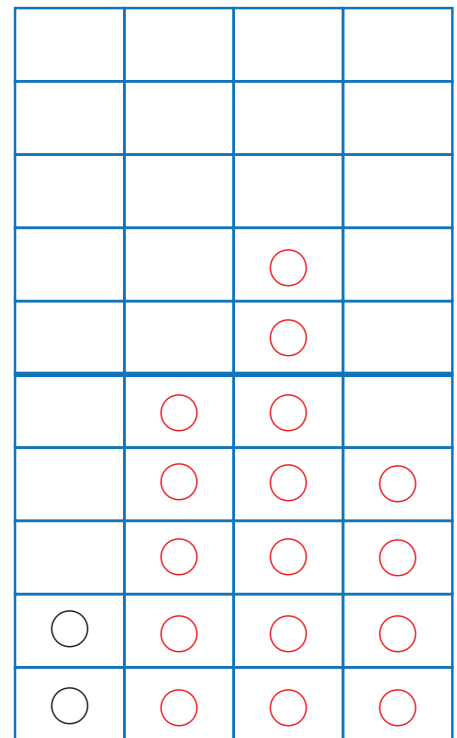
② くだものの 数を ○の 数で
あらわした グラフをかきましょう。

③ いちばん 多い くだものは 何ですか。

みかん

④ いちばん 少ない くだものは 何ですか。

メロン



メロン バナナ みかん りんご

