





くだものの 数を しらべます。



① くだものの 数を 下の ひょうに 書きましょう。

名前	メロン	バナナ	みかん	りんご
数	2			

② くだものの 数を ○の 数で  
あらわした グラフをかきましょう。

③ いちばん 多い くだものは 何ですか。

\_\_\_\_\_

④ いちばん 少ない くだものは 何ですか。

\_\_\_\_\_

○			
○			

メ  
ロ  
ン      バ  
ナ  
ナ      み  
か  
ん      り  
ん  
ご

