





やさいの 数を しらべます。



① やさいの 数を 下の ひょうに 書きましょう。

名前	トマト	きゅうり	なす	にんじん
数				

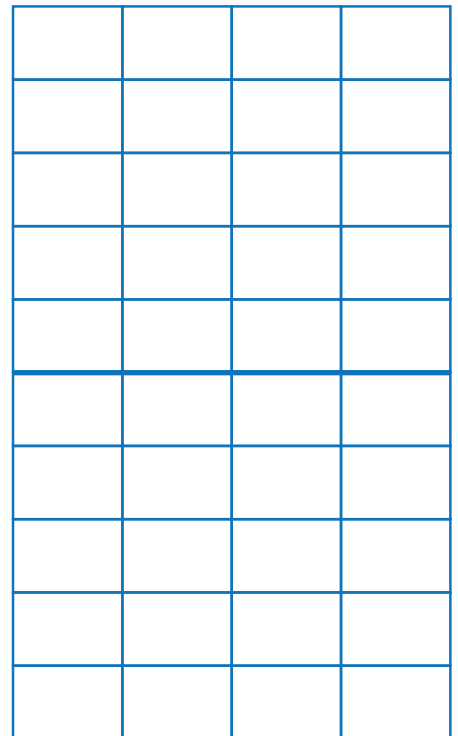
② やさいの 数を ○の 数で  
あらわした グラフを かきましょう。

③ いちばん 多い やさいは 何ですか。

\_\_\_\_\_

④ きゅうりと にんじんの ちがいは  
何本 ですか。

\_\_\_\_\_



ト  
マ  
ト

き  
ゆ  
う  
り

な  
す

に  
ん  
じ  
ん

