





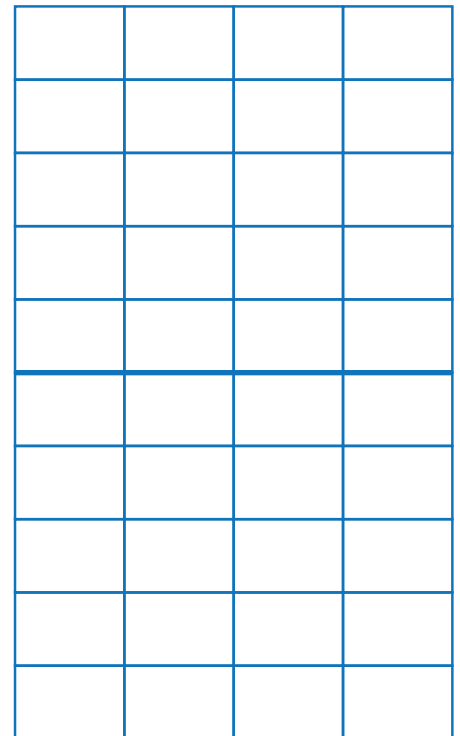
どうぶつの 数を しらべます。



① どうぶつの 数を 下の ひょうに 書きましょう。

名前	ねこ	いぬ	ぶた	りす
数				

② どうぶつの 数を ○の 数で  
あらわした グラフを かきましょう。



③ いちばん 多い どうぶつは 何ですか。

\_\_\_\_\_

④ ねこと いぬの ちがいは  
何びき ですか。

\_\_\_\_\_

ねこ いぬ ぶた りす

