


ぶんぼうぐの 数を しらべます。



① ぶんぼうぐの 数を 下のひょうに 書きましょう。

名前	ノート	けしごむ	はさみ	えんぴつ
数	3	6	4	7

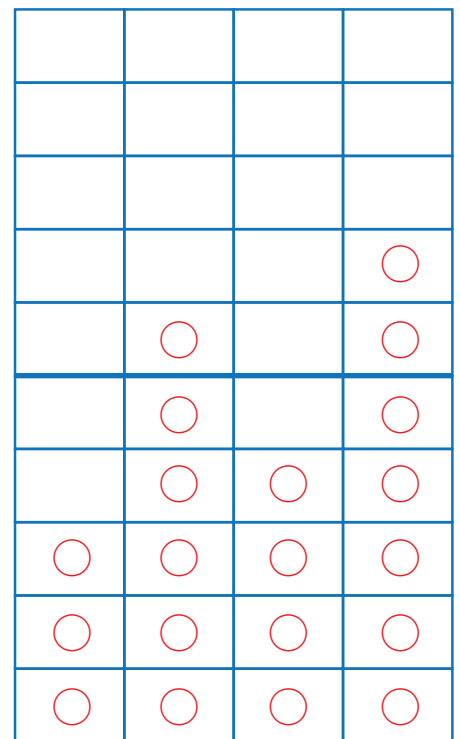
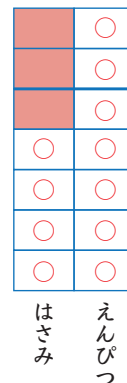
② ぶんぼうぐの 数を ○の 数で
あらわした グラフをかきましょう。

③ いちばん 多い ぶんぼうぐは 何ですか。

えんぴつ

④ えんぴつと はさみの ちがいは
何本 ですか。

3本



ノート けしごむ はさみ えんぴつ

