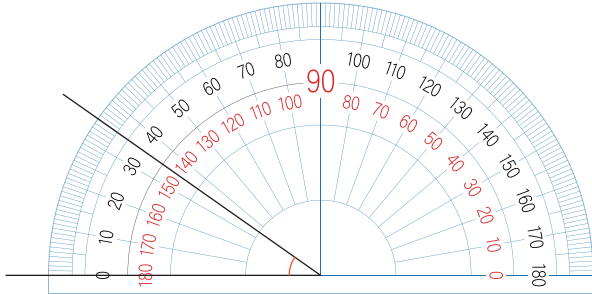


0° の線に合わせた方のめもりを読みましょう。

次の図のオレンジ色の角度は何度ですか。

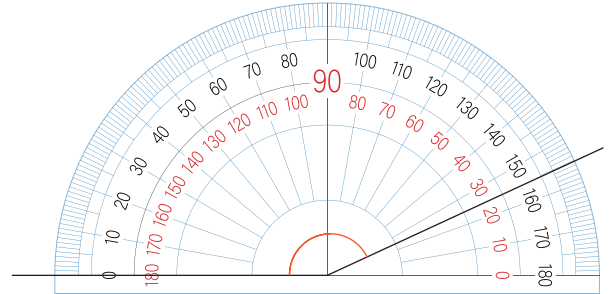
(1)



黒のめもり 0 から

**35°**

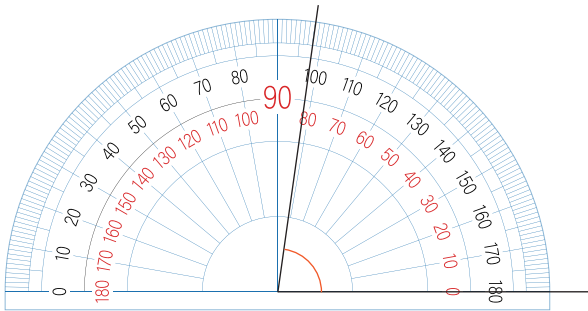
(2)



黒のめもり 0 から

**155°**

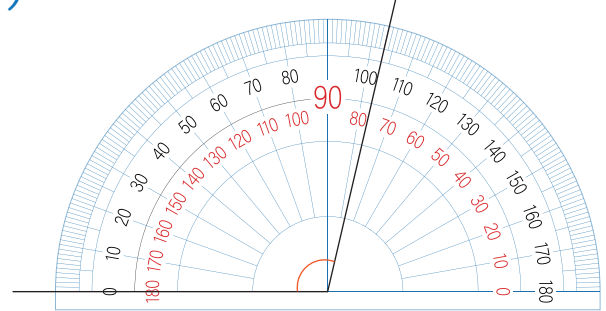
(3)



赤のめもり 0 から

**82°**

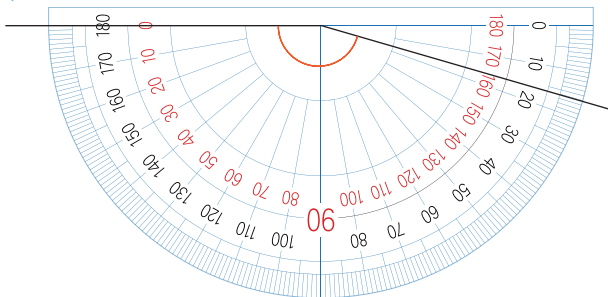
(4)



黒のめもり 0 から

**103°**

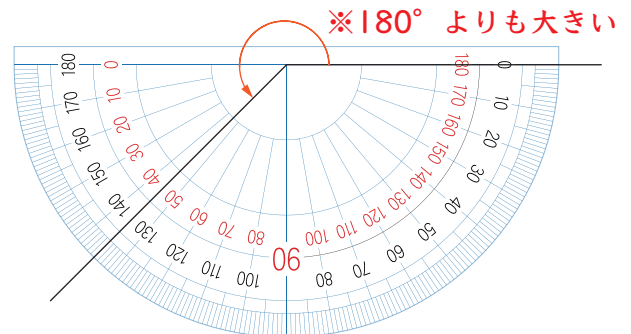
(5)



赤のめもり 0 から

**164°**

(6)



※180° よりも大きい

180° + 45° = 225°

**225°**

上 180° (2 直角) と下 45° (赤のめもり 0 から) を足す

