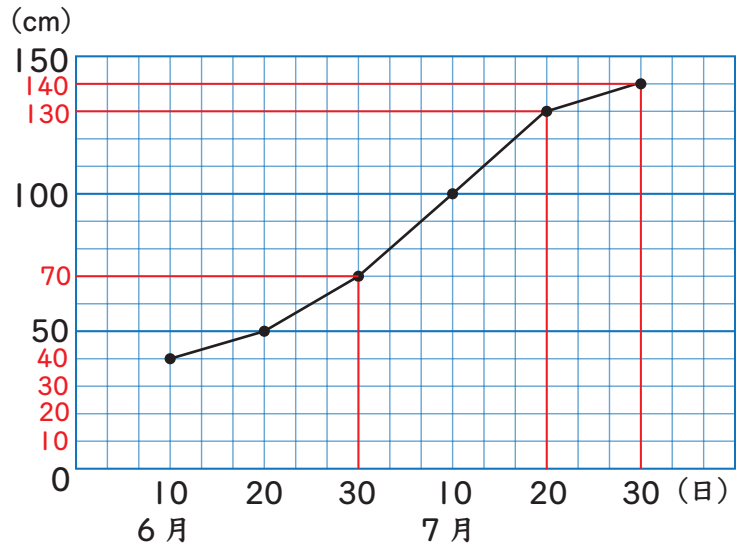


折れ線グラフと表 2

1 右の折れ線グラフは、ひまわりの高さの変わり方を調べたものです。
次の問いに答えましょう。



(1) たてじくの1めもりは何 cm ですか。

10cm

(2) 6月30日のひまわりの高さは
何 cm ですか。

70cm

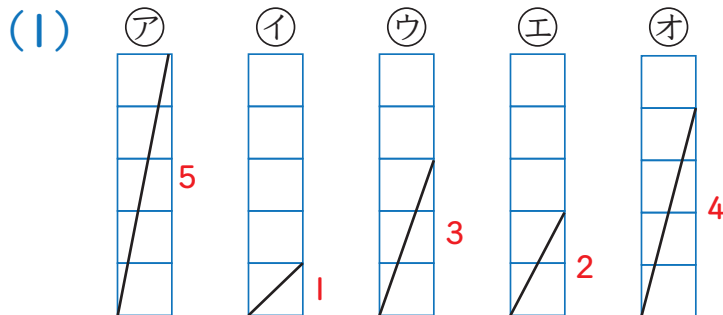
(3) 7月30日のひまわりの高さは
何 cm ですか。

140cm

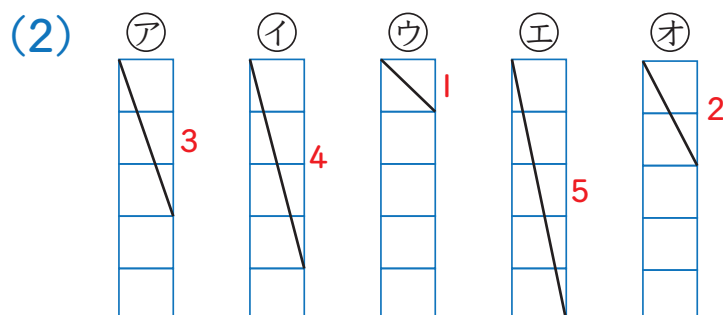
(4) ひまわりの高さが130cmになったのは、いつですか。

7月20日

2 下の折れ線グラフを見て、かたむきが大きい順に、記号をかきましょう。



ア オ ウ エ イ



エ イ ア オ ウ

