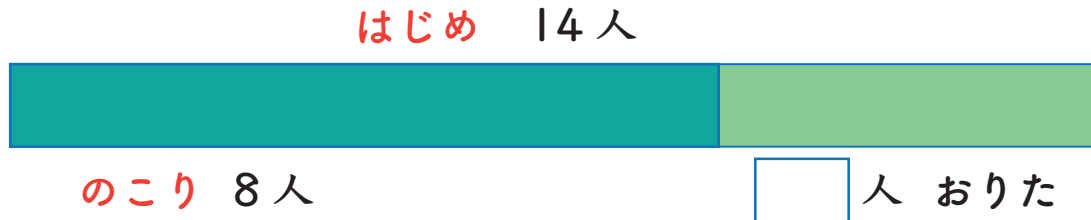


図をつかって考えよう 1

たすのかな ひくのかな

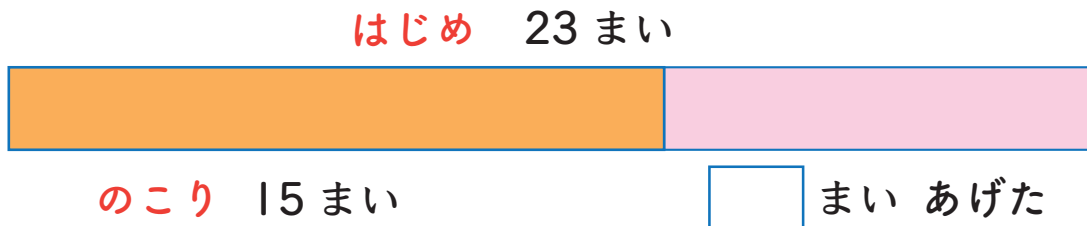
- 1 バスに 14 人のっていました。何人か おりたので、
8 人になりました。おりたのは 何人ですか。



しき

こたえ


- 2 カードを 23 まい もっていました。妹に 何枚か あげたので、
15 まいになりました。あげたのは 何まいですか。



しき

こたえ

- 3 図書館に 何人か いました。16 人帰ったので、
19 人になりました。はじめに 何人 いましたか。



しき

こたえ

