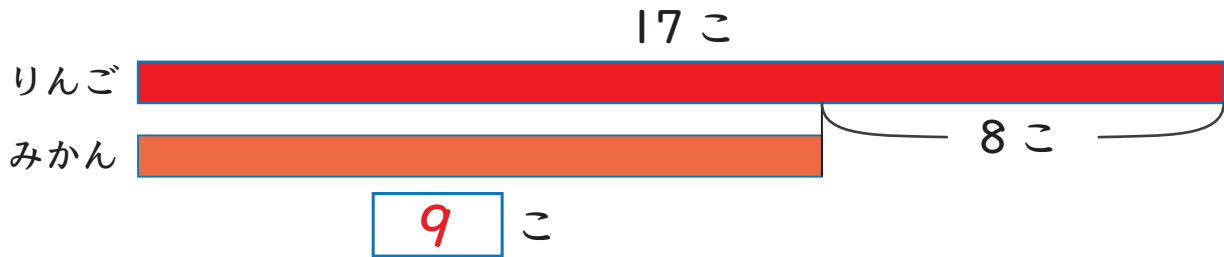


図をつかって考えよう 3

たすのかな ひくのかな

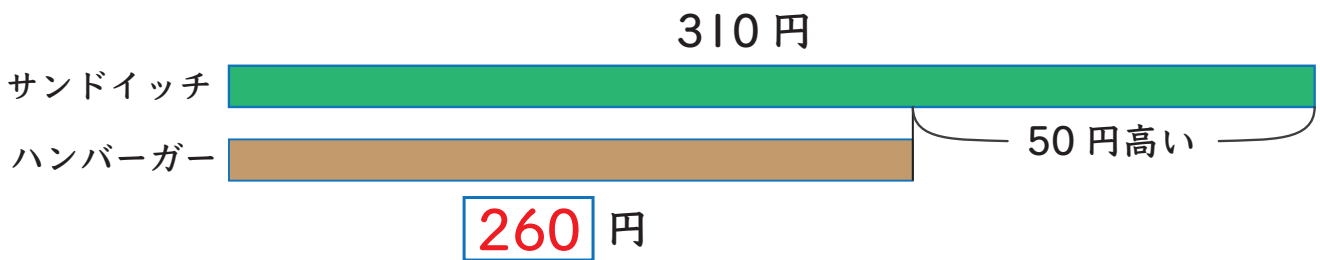
- 1 りんごは 17 こで、みかんより 8 こ 多いです。
みかんは 何こ ありますか。



しき $17 - 8 = 9$

こたえ 9 こ

- 2 サンドイッチは 310 円で、ハンバーガーより 50 円高いです。
ハンバーガーは 何円ですか。

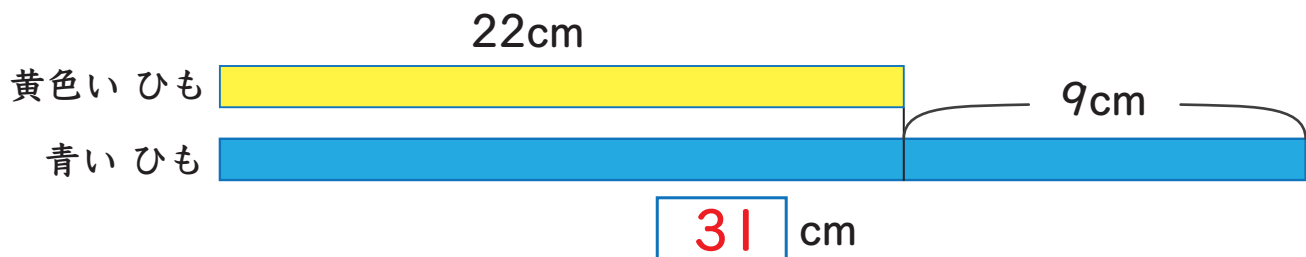


しき $310 - 50 = 260$

こたえ 260 円

- 3 黄色い ひもは 22cm で、青い ひもより 9cm みじかいです。
青い ひもは 何 cm ですか。

どちらの ひもが 短い？



しき $22 + 9 = 31$

こたえ 31 cm

