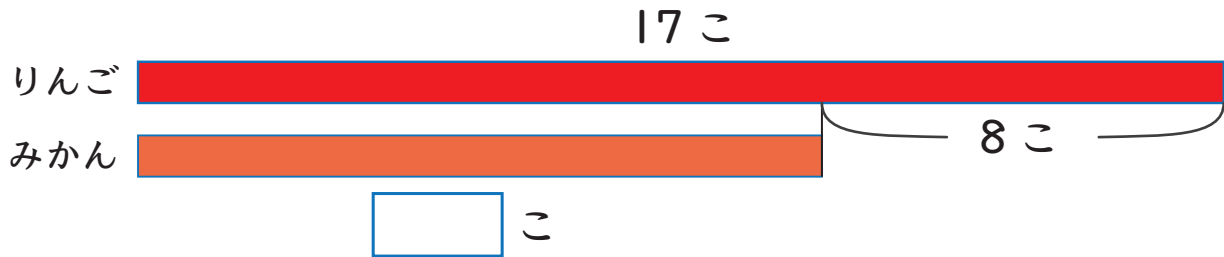


図をつかって考えよう 3

たすのかな ひくのかな

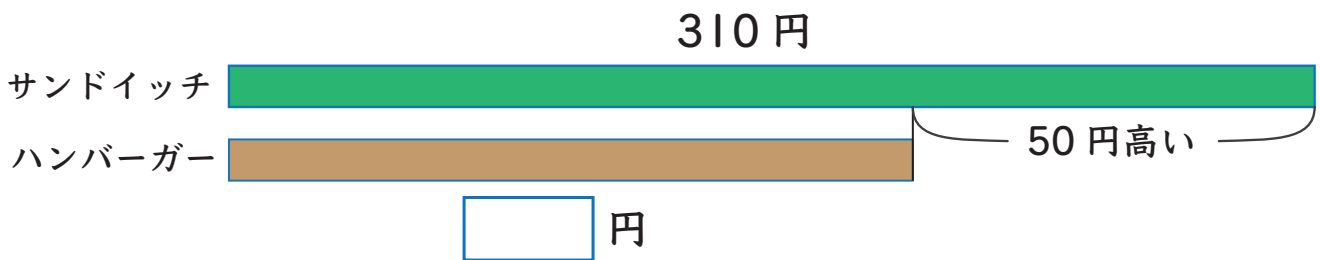
- 1 りんごは 17 こで、みかんより 8 こ 多いです。
みかんは 何こ ありますか。



しき

こたえ

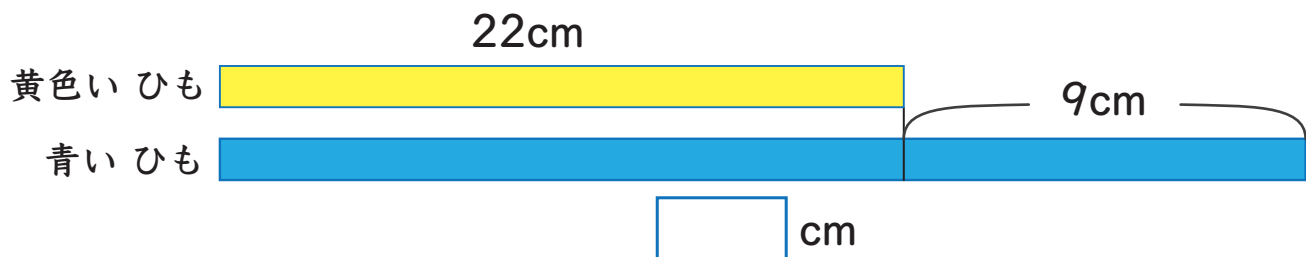
- 2 サンドイッチは 310 円で、ハンバーガーより 50 円 高いです。
ハンバーガーは 何円 ですか。



しき

こたえ

- 3 黄色い ひもは 22cm で、青い ひもより 9cm みじかいです。
青い ひもは 何 cm ですか。



しき

こたえ

