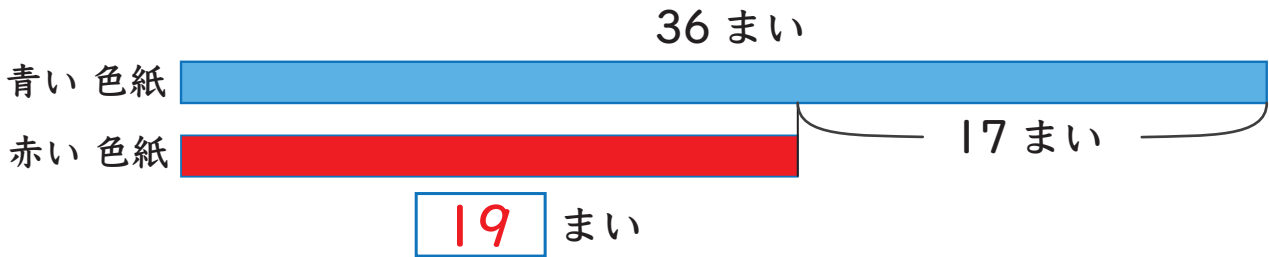


## 図をつかって考えよう 4

たすのかな ひくのかな

- 1 青い色紙は36まいで、赤い色紙より17まい多いです。  
赤い色紙は何まいありますか

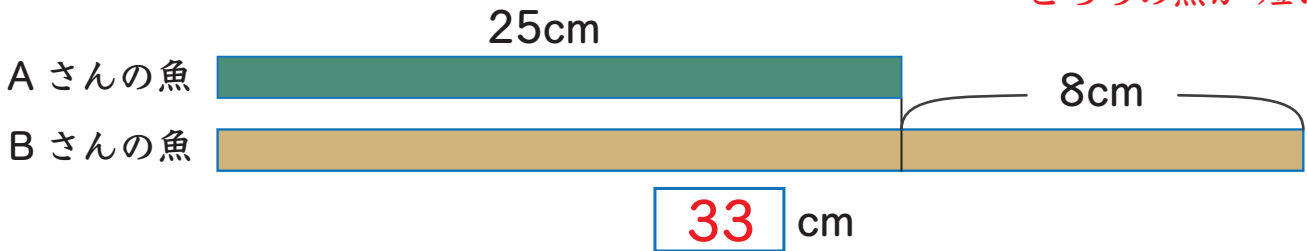


しき  $36 - 17 = 19$

こたえ 19まい

- 2 Aさんがつった魚は25cmでBさんがつった魚より8cm  
みじかいです。Bさんがつった魚は何cmですか。

どちらの魚が短い？

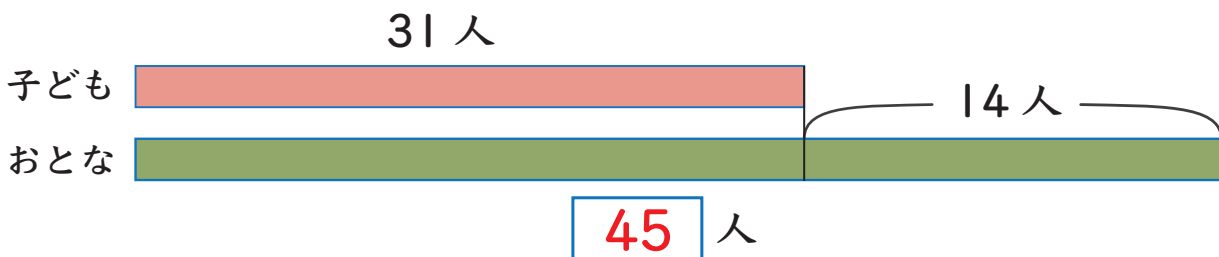


しき  $25 + 8 = 33$

こたえ 33cm

- 3 図書館にいる子どもは31人で、おとなより14人少ないです。  
おとなは何人いますか。

どちらが少ない？



しき  $31 + 14 = 45$

こたえ 45人

