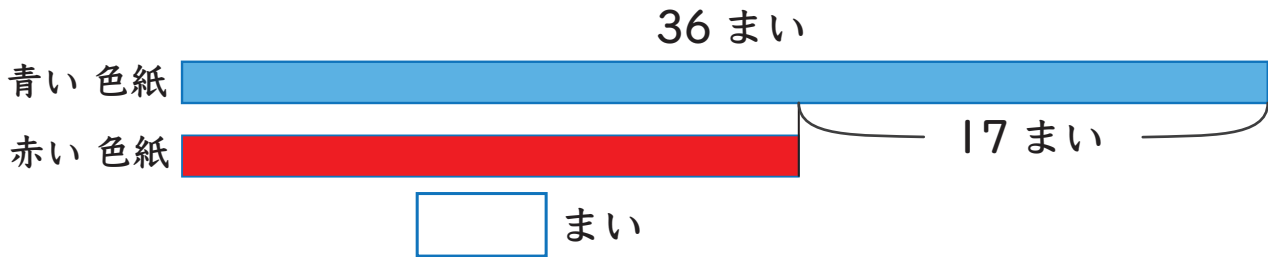


図をつかって考えよう4

たすのかな ひくのかな

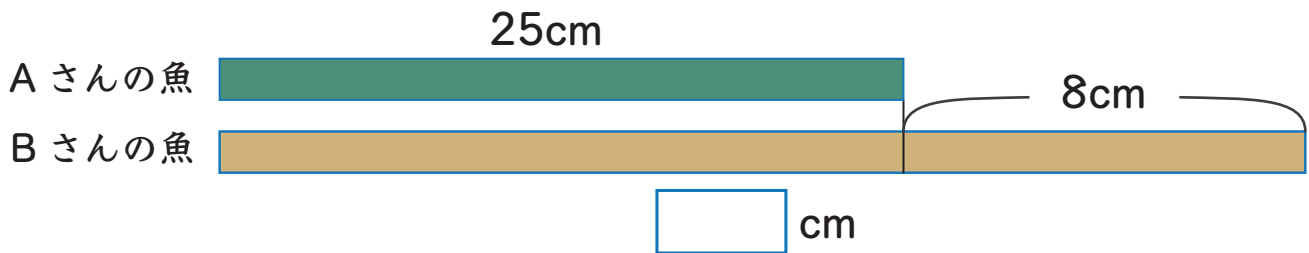
- 1 青い色紙は36まいで、赤い色紙より17まい多いです。
赤い色紙は何まいありますか



しき

こたえ

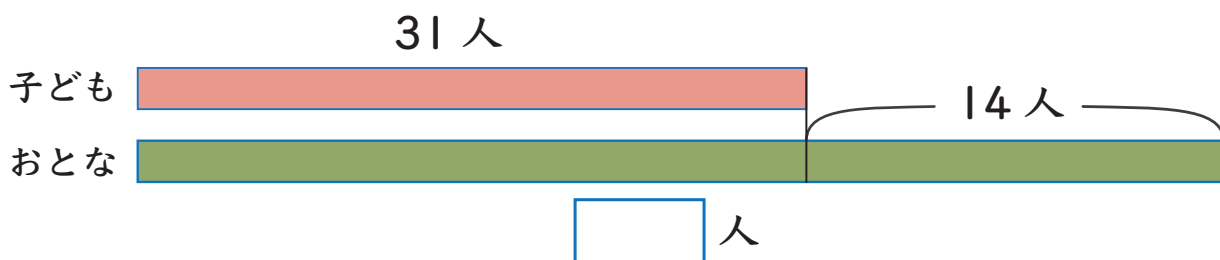
- 2 Aさんがつった魚は25cmでBさんがつった魚より8cm
みじかいです。Bさんがつった魚は何cmですか。



しき

こたえ

- 3 図書館にいる子どもは31人で、おとなより14人少ないです。
おとなは何人いますか。



しき

こたえ

